

GTA | Guião de Trabalho Autónomo n.º 9

GEOGRAFIA A 10.º ANO

Tema1: A população utilizadora de recursos e organizadora de espaços
Subtema 1.1: Evolução e diferenças regionais



PORQUÊ APRENDER SOBRE...?



O QUE VOU APRENDER?



COMO VOU APRENDER?



O QUE APRENDI?



COMO POSSO COMPLEMENTAR A
APRENDIZAGEM?



PORQUÊ APRENDER SOBRE...?

O impacto dos movimentos migratórios em Portugal

Vem descobrir como os movimentos migratórios transformam Portugal e se refletem na economia, na cultura, na sociedade, provocando desafios e oportunidades para todos.



O QUE VOU APRENDER?

- Comparar a evolução do comportamento de diferentes variáveis demográficas, recolhendo e selecionando informação estatística e apresentando conclusões.
- Identificar padrões de distribuição de variáveis demográficas e suas causas próximas, utilizando mapas a diferentes escalas.



COMO VOU APRENDER?

GTA 7: Porquê estudar a população?

GTA 8: Quantos eramos e quantos somos?

GTA 9: Qual o impacto dos movimentos migratórios em Portugal?

GTA 10: Como se distribuem as variáveis demográficas?

Tema 1: A população utilizadora de recursos e organizadora de espaços

Subtema 1.1: Evolução e diferenças regionais



GTA 9: Qual o impacto dos movimentos migratórios em Portugal?

Objetivos:

- Discutir os impactos da emigração e da imigração na sociedade portuguesa, a nível económico, social e demográfico.
- Analisar os desafios e as oportunidades que a mobilidade da população coloca a Portugal.
- Explicar o impacto dos movimentos migratórios na variação da população residente.

Modalidade de trabalho: individual e em pequeno grupo.

Recursos e materiais: caderno diário, manual escolar e *internet*.

TAREFA 1

Analisa os gráficos das figuras 1, 2 e 3, presentes no documento da PORDATA, que apresenta um retrato da população estrangeira e dos fluxos migratórios em Portugal, para assinalar o [Dia Internacional dos Migrantes](#), (pp.3 a 6.)

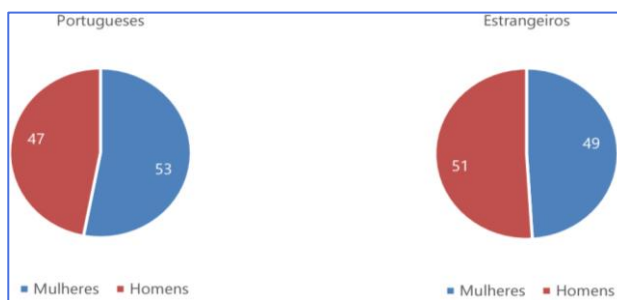


Figura 1 - População portuguesa vs. estrangeira, por sexo (%) – 2022
Fonte: [Dia Internacional dos Migrantes](#), PORDATA, p. 4.

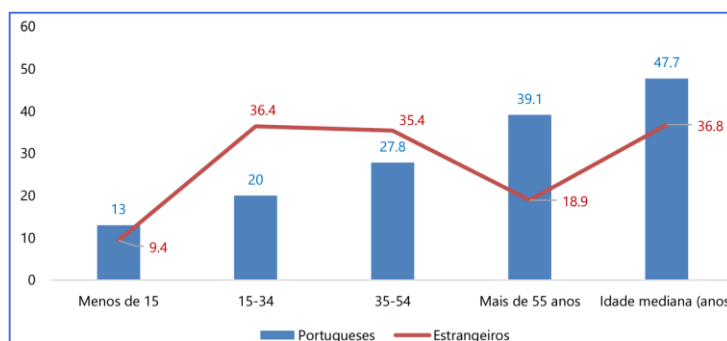


Figura 2 - População portuguesa vs. estrangeira, por faixa etária (%) – 2022
Fonte: [Dia Internacional dos Migrantes](#), PORDATA, p. 4.

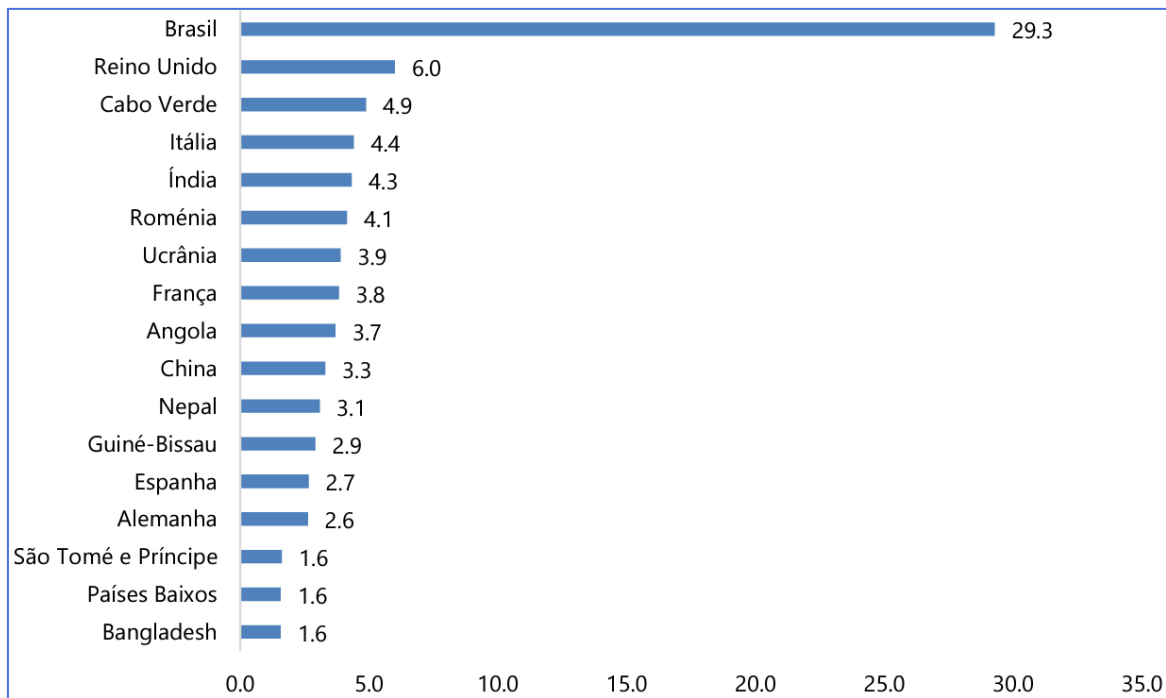


Figura 3 - População estrangeira por principais países de origem (%)
Fonte: [Dia Internacional dos Migrantes](#), PORDATA, p. 5.

Complementa a análise através da consulta do documento [Estatísticas demográficas de 2023](#), (pág. 15) do INE, e **analisa** o gráfico da figura 4 e **responde** às questões:

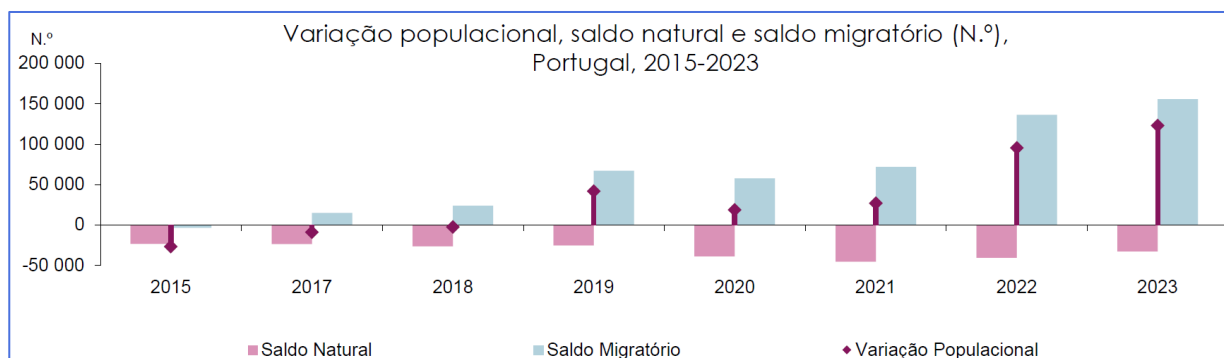


Figura 4 – Variação populacional, saldo natural e saldo migratório (N.º). Portugal, 2015 a 2023.
Fonte: [Estatísticas demográficas de 2023](#), do INE, p.15.

- Qual a tendência da evolução da população estrangeira em Portugal na última década?
- De que forma a população estrangeira se diferencia da população portuguesa no que se refere ao género e idade?
- Quais as principais nacionalidades representadas entre a população estrangeira em Portugal?
- Qual o impacto dos movimentos migratórios no crescimento efetivo da população portuguesa?



Debate com os teus colegas as principais conclusões.

Confronta o que aprendeste com o teu manual escolar.

Com a exploração do manual e do documento disponibilizado, pudeste concluir que ...

Após um decréscimo entre 2010 e 2015, a população estrangeira em Portugal tem vindo a aumentar na última década.

Em território nacional, esta é mais jovem e tem uma proporção superior de homens em comparação com a população portuguesa. A idade média dos portugueses é 48 anos, enquanto que a dos estrangeiros é de 37 anos.

As principais nacionalidades são Brasileira (29,3%), Britânica (6%), Cabo-verdiana (4,9%), Italiana (4,4%), Indiana (4,3%) e Romena (4,1%). De salientar que oito em cada dez estrangeiros residentes em Portugal são provenientes de países fora da União Europeia.

O saldo migratório tem sido positivo desde 2017. Este fluxo de imigrantes tem contribuído para o aumento da população, compensando o saldo natural negativo que se verifica desde 2009.

TAREFA 2

Explora o recurso [“O que sabemos sobre as \(i\)migrações em Portugal?”](#)



Uma apresentação da Dra. Catarina Oliveira, diretora do Observatório das Migrações, que te permite esclarecer dúvidas sobre estes conceitos.

Realiza as atividades propostas no final do recurso.

TAREFA 3

Assiste ao webinar: [“No centro do país, no centro as pessoas”](#), sobre a aposta na atração, fixação e integração de migrantes no concelho do Fundão.



Realiza as atividades propostas no referido recurso.



TAREFA 4

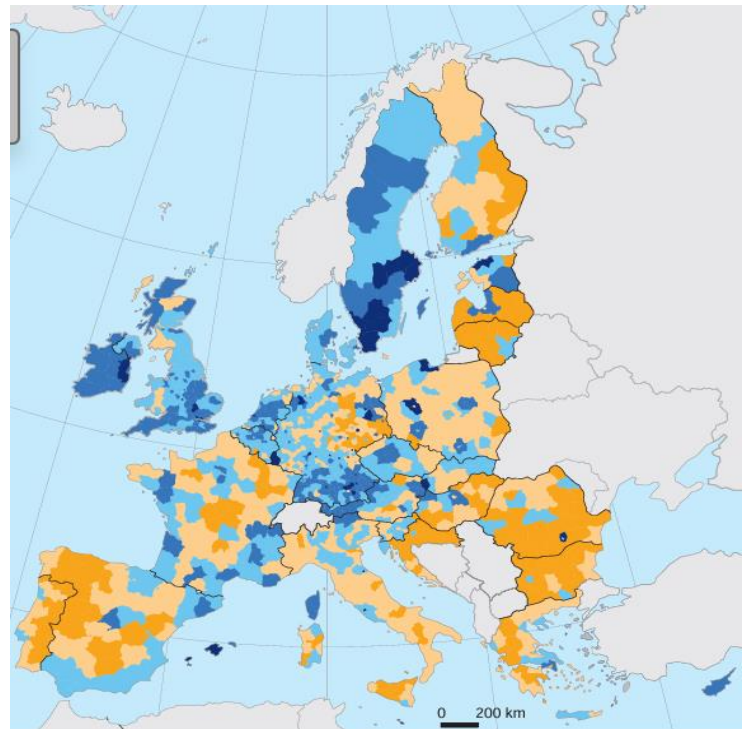
Resolve o exercício.

Item 1 - Na União Europeia (UE), o ritmo de crescimento da população, nos últimos anos, constitui uma ameaça à coesão e à competitividade das diferentes regiões europeias.

A Figura 1 representa a taxa de crescimento efetivo (‰), por NUTS III, nos Estados-membros da UE, em 2017.

Figura 1 – Taxa de crescimento efetivo (‰), por NUTS III, nos Estados-membros da UE, em 2017.

Fonte: <https://ec.europa.eu> (consultado em novembro de 2019). (Adaptado)



1.1. De acordo com a Figura 1, dois dos Estados-membros da UE em que a maioria das suas NUTS III apresentam uma taxa de crescimento efetivo superior à média da UE são

- (A) a Polónia e o Reino Unido.
- (B) a Finlândia e a República Checa.
- (C) a Irlanda e a Suécia.
- (D) a Dinamarca e Portugal.

1.2. O valor da taxa de crescimento efetivo registado nas NUTS III da Península Ibérica, em 2017, observável na Figura 1, permite-nos afirmar que,

- (A) na maioria das unidades territoriais de Portugal continental, a taxa de mortalidade foi superior à taxa de natalidade.
- (B) nas unidades territoriais do litoral do sudeste de Espanha, o somatório da taxa de crescimento natural e da taxa de crescimento migratório foi positivo.
- (C) nas unidades territoriais do litoral de Portugal continental, a taxa de crescimento natural e a taxa de crescimento migratório foram ambas negativas.
- (D) na maioria das unidades territoriais do sudeste de Espanha, a taxa de natalidade foi superior à taxa de mortalidade.



- 1.3. A taxa de crescimento efetivo superior a 6‰ nas NUTS III dos Estados-membros da UE, observada na Figura 1, tem impactes noutros indicadores demográficos, porque ocorre um
- (A) decréscimo da esperança de vida aos 65 anos, se aumentar a população idosa.
 - (B) aumento do índice de dependência de jovens, se o efetivo de população adulta se mantiver.
 - (C) decréscimo do índice sintético de fecundidade, se a população for predominantemente feminina.
 - (D) aumento do rejuvenescimento, se a população jovem for predominantemente emigrante.

Fonte: exercício 1, do exame nacional 2020 – 2.ª fase



PROPOSTA DE RESOLUÇÃO

Item 1

1.1

Resposta: opção (C)

1.2

Resposta: opção (B)

A taxa de crescimento efetivo tem por base a taxa de crescimento natural e a taxa de crescimento migratório e o somatório das duas taxas foi positivo.

1.3

Resposta: opção (B)

Uma elevada taxa de crescimento efetivo (quer por elevada natalidade com efeito na taxa de crescimento natural, quer devido a saldo migratório positivo) representa rejuvenescimento da população e como tal, caso a população adulta não sofra alterações, um aumento do índice de dependência de jovens.



O QUE APRENDI?

Já conheces o impacto que os movimentos migratórios têm em Portugal?

És capaz de...

- discutir os impactos da emigração e da imigração na sociedade portuguesa, a nível económico, social e demográfico?
- analisar os desafios e as oportunidades que a mobilidade da população coloca a Portugal?
- explicar o impacto dos movimentos migratórios na variação da população residente?

Ainda tens dúvidas?

Sugestões:

Analisa as propostas de resolução dos teus colegas. Se necessário, **repete** a resolução das tarefas.

Procura no teu manual escolar os exercícios sobre o tema da população, mais concretamente sobre “Evolução e diferenças regionais”. **Resolve-os** sozinho. Por fim, **confronta** a tua resolução com as dos teus colegas.



COMO POSSO COMPLEMENTAR A APRENDIZAGEM?

Para **complementares** a tua aprendizagem, ou **esclareceres** dúvidas:

Visualiza as videoaulas nas quais são explicadas todas as temáticas presentes neste guião.



[“A população utilizadora de recursos e organizadora de espaços.”](#)



[A evolução do comportamento das variáveis demográficas em Portugal](#)

Consulta outras páginas para complementares os teus conhecimentos sobre esta temática.



[Relatório indicadores de Integração Imigrantes 2023](#)



eurocid.mne.gov.pt



[Falar glogal – Pordata: Retratos de Portugal](#)