

#ESTUDOEMCASA

BLOCO N.º 8		DISCIPLINA Geografia
ANO(S)	7.º e 8.º	
APRENDIZAGENS ESSENCIAIS	<ul style="list-style-type: none"> <li>Descrever a localização absoluta de um lugar, usando o sistema de coordenadas geográficas (latitude, longitude), em mapas de pequena escala com um sistema de projeção cilíndrica.</li> </ul>	

Título/Tema do Bloco

A exatidão na localização!

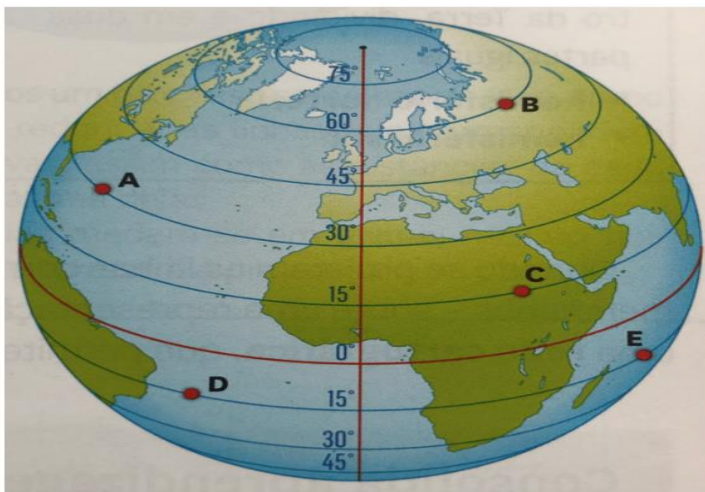
Tarefas/ Atividades/ Desafios

1. Tarefa - Realização de exercícios.

3.º ciclo/7.º ano X

Localização absoluta.

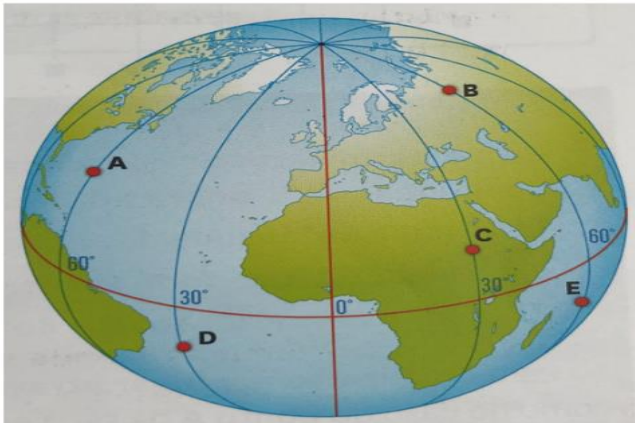
- Indicar o valor da latitude dos lugares assinalados no globo.



Lugares	Latitude
A	
B	
C	
D	
E	

Fonte: RODRIGUES, Arinda. *Mapa-Mundo Geografia 7.º ano*. Lisboa. Texto Editores. 2012

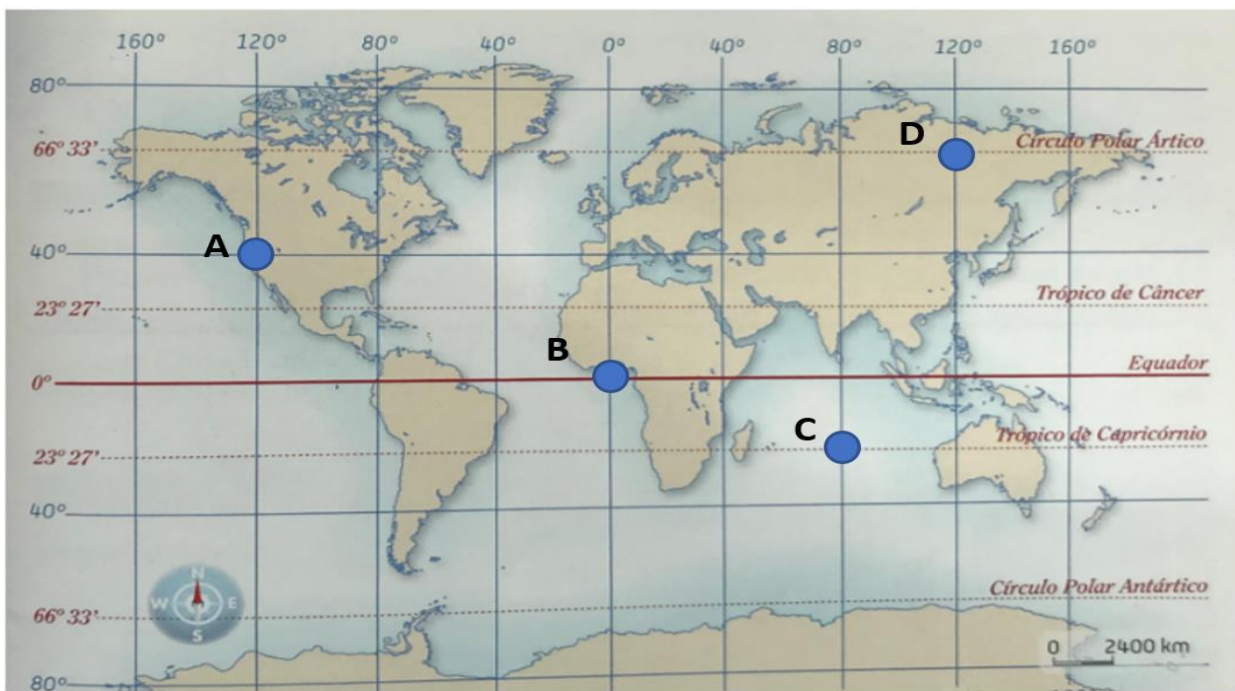
- Indicar o valor da longitude dos lugares assinalados no globo.



Lugares	Longitude
A	
B	
C	
D	
E	

Fonte: RODRIGUES, Arinda. *Mapa-Mundo Geografia 7.º ano*. Lisboa. Texto Editores. 2012

- Localizar de forma absoluta os lugares assinalados no mapa.



Fonte: RIBEIRO, Isabel et al. *Geo sítios 7*. Porto. Areal Editores. 2012

Lugar	Latitude	Longitude
A		
B		
C		
D		

**Círculos terrestres e localização absoluta.**

Selecionar para cada afirmação a alínea correta.

- Os círculos menores dividem a Terra em:
  - A) dois hemisférios.
  - B) hemisfério norte e sul.
  - C) duas partes desiguais.
  
- Os círculos máximos dividem a Terra em:
  - A) duas partes iguais.
  - B) hemisfério norte e sul.
  - C) duas partes desiguais.
  
- O cabo da Boa Esperança localiza-se a  $34^{\circ}21'S$  e  $18^{\circ}27'E$ , ou seja,:
  - A) nos hemisférios norte e oriental.
  - B) nos hemisférios sul e ocidental.
  - C) nos hemisférios sul e oriental.
  
- Qual a capital de distrito que se localiza a  $41^{\circ}48'N$  e  $6^{\circ}41'O$ ?
  - A) Vila Real
  - B) Braga
  - C) Bragança
  
- Qual a capital de distrito que se localiza a  $40^{\circ}32'N$  e  $7^{\circ}13'O$ ?
  - A) Guarda
  - B) Viseu
  - C) Aveiro

Divisão administrativa de Portugal Continental (Distritos)



Fonte: GOMES, Ana et al. *Fazer geografia 3.0 A Terra: Estudos e Representações*. Porto: Porto Editora. 2012

## 2. Atividade - Localização exata das 7 *maravilhas* de Portugal (monumentos) e das 7 *maravilhas* de Portugal Aldeias.

- ❖ Recolha no manual, sites da internet, *Google Earth* e outras fontes, a localização absoluta dos 7 monumentos e das 7 aldeias eleitos pelos portugueses como *maravilhas* de Portugal e imagens.
- ❖ Elaboração de um mapa em que se localizem os 7 monumentos e as 7 aldeias, legendem os mesmos (utilizar símbolos distintos ou cores) e coloquem as respetivas coordenadas geográficas.
- ❖ Inserção de imagens que retratem cada um dos monumentos e das aldeias.

(Nota: Possibilidade de elaborar a tarefa recorrendo a ferramentas digitais.)