

EXERCÍCIO 2

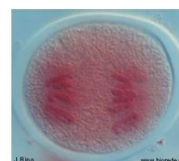
- Ordena as imagens de forma a estabelecer a sequência correta da meiose.



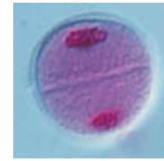
A – Prófase I



E – Metáfase I



H – Anáfase I



G – Telófase I



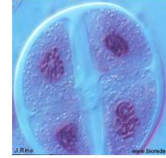
D – Prófase II



C – Metáfase II



F – Anáfase II



B – Telófase II

Retirado do PPT 4 - BG 11 – Aula digital

Proposta de correção

Exercício 1

- A – Prófase I
- B – Telófase II
- C – Metáfase II
- D – Prófase II
- E – Metáfase I;
- F – Anáfase II;
- G – Telófase I;
- H – Anáfase I.

Exercício 2

A – E – H – G – D – C – F – B