

#ESTUDOEMCASA


BLOCO N.º 5		Matemática
ANO(S)	1º	
APRENDIZAGENS ESSENCIAIS		<ul style="list-style-type: none"> <li>• Comparar e ordenar números.</li> <li>• Efetuar contagens progressivas e regressivas e registar as sequências numéricas obtidas.</li> <li>• Resolver problemas utilizando tabelas e sequências de números.</li> </ul>


Título/Tema do Bloco


Relações de ordem. Resolução de problemas.

Tarefas/ Atividades/ Desafios

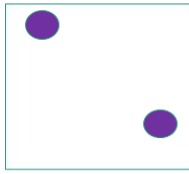
1. Considera o número de cubos de cada uma das construções e compara-os utilizando os sinais < (menor), > (maior) ou = (igual).

a.    
 Construção A                      Construção B


b.    
 Construção A                      Construção B

c.    
 Construção A                      Construção B

2. Considera os seguintes cartões. Indica o número de pintas de cada cartão. Compara o número de pintas de cada cartão, completando com os sinais  $>$  (maior do que),  $<$  (menor do que) ou  $=$  (igual).




Cartão A.




Cartão B.

a.

Número de pintas: \_\_\_\_\_ Número de pintas: \_\_\_\_\_




Cartão A.




Cartão B.

b.

Número de pintas: \_\_\_\_\_ Número de pintas: \_\_\_\_\_




Cartão A.




Cartão B.

c.

Número de pintas: \_\_\_\_\_ Número de pintas: \_\_\_\_\_



Cartão A.




Cartão B.

d.

Número de pintas: \_\_\_\_\_ Número de pintas: \_\_\_\_\_




Cartão A.



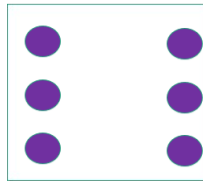
Cartão B.

e.

Número de pintas: \_\_\_\_\_ Número de pintas: \_\_\_\_\_



Cartão A.




Cartão B.

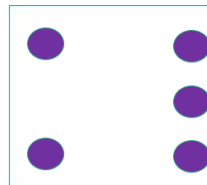
f.

Número de pintas: \_\_\_\_\_

Número de pintas: \_\_\_\_\_



Cartão A.




Cartão B.


g.

Número de pintas: \_\_\_\_\_

Número de pintas: \_\_\_\_\_



Cartão A.




Cartão B.


h.

Número de pintas: \_\_\_\_\_

Número de pintas: \_\_\_\_\_



Cartão A.



Cartão B.

i.

Número de pintas: \_\_\_\_\_

Número de pintas: \_\_\_\_\_