

#ESTUDOEMCASA

BLOCO N.º 50		DISCIPLINA Matemática
ANO(S)	1.º	
APRENDIZAGENS ESSENCIAIS		<ul style="list-style-type: none"> • Ler e representar números no sistema de numeração decimal até 100 e identificar o valor posicional de um algarismo. • Reconhecer e utilizar diferentes representações para o mesmo número e relacioná-las. • Conceber e aplicar estratégias na resolução de problemas com números naturais, em contextos matemáticos e não matemáticos, e avaliar a plausibilidade dos resultados.

Título/Tema do Bloco

NÚMEROS ATÉ 100 (2).

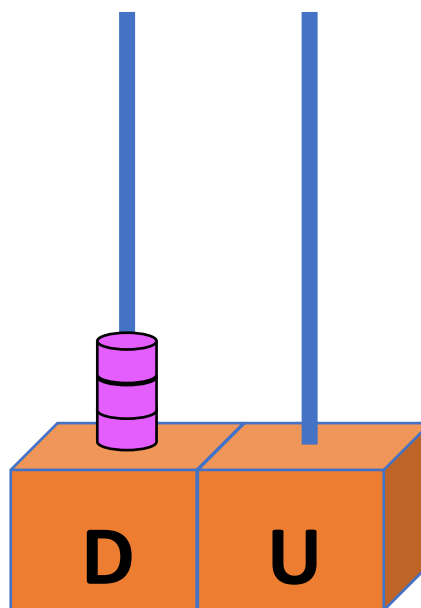
Tarefas/ Atividades/ Desafios

QUIZ

1. Considera a imagem de um ábaco:

Qual é o número representado no ábaco?

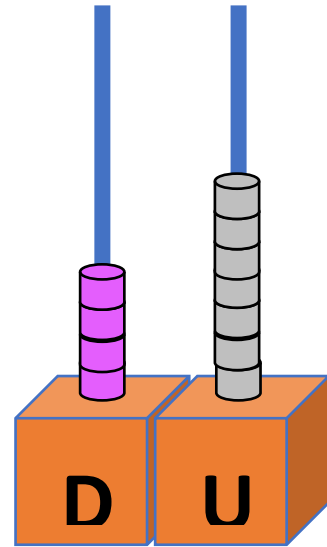
- (A) 3
- (B) 13
- (C) 30



2. Considera a imagem de um ábaco:

Qual é o número representado no ábaco?

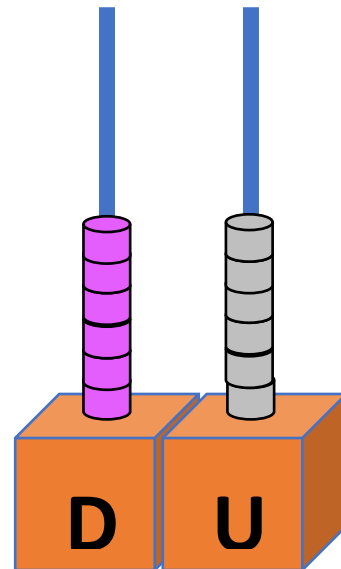
- (A) 17
- (B) 47
- (C) 70



3. Considera a imagem de um ábaco:

Qual é o número representado no ábaco?

- (A) 6
- (B) 60
- (C) 66



4. Considera a imagem de um ábaco:

Qual é o número representado no ábaco?

- (A) 28
- (B) 82
- (C) 90

