

#ESTUDOEMCASA

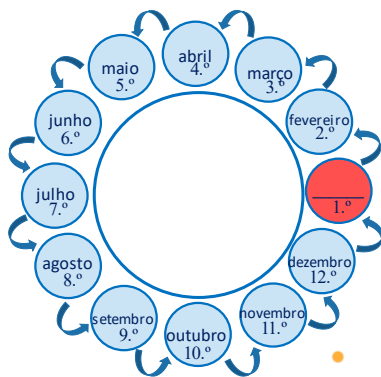
BLOCO N.º 61		DISCIPLINA Matemática
ANO(S)	1.º	
APRENDIZAGENS ESSENCIAIS	<ul style="list-style-type: none"> <li>Reconhecer e relacionar entre si, intervalos de tempo (dia, semana, mês e ano) e identificar a hora como unidade de medida de tempo.</li> <li>Conceber e aplicar estratégias na resolução de problemas envolvendo a visualização e a medida, em contextos matemáticos e não matemáticos, e avaliar a plausibilidade dos resultados.</li> </ul>	

Título/Tema do Bloco

TEMPO: MESES E ANOS.

Tarefas/ Atividades/ Desafios

1. Considera o esquema com os meses do ano:



Qual é o nome do primeiro mês do ano?

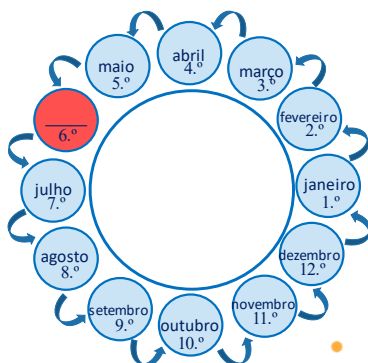
- (A) Janeiro.
- (B) Junho.
- (C) Novembro.

1.º ciclo/1.º ano

1.º ciclo/1.º ano

1.º ciclo/1.º ano

2. Considera o esquema com os meses do ano:



Qual é o nome do sexto mês do ano?

- (A) Janeiro.
- (B) Junho.
- (C) Novembro.

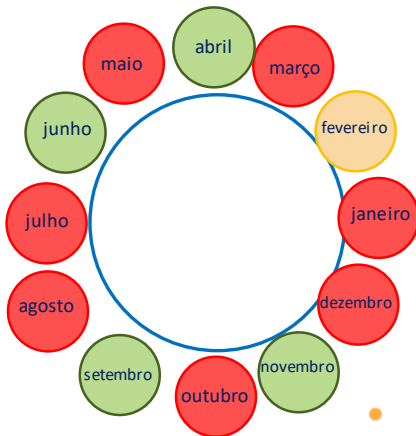
1.º ciclo/1.º ano

1.º ciclo/1.º ano

1.º ciclo

/1.º ano

3. Considera o esquema com os meses do ano:



Quantos dias tem o mês de fevereiro?

- (A) 31.
- (B) 30.
- (C) 28 ou 29.

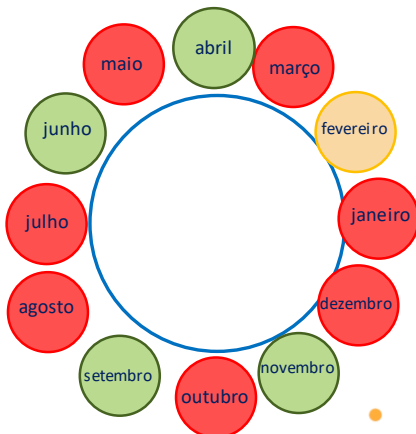
1.º ciclo/1.º ano

1.º ciclo/1.º ano

1.º ciclo

/1.º ano

4. Considera o esquema com os meses do ano:



Quantos dias tem o mês de abril?

- (A) 31.
- (B) 30.
- (C) 28 ou 29.

1.º ciclo/1.º ano

1.º ciclo/1.º ano

1.º ciclo

/1.º ano

5. Considera o calendário:

ABRIL						
domingo	segunda	terça	quarta	quinta	sexta	sábado
			1	2	3	4
5	6	7	8	9	10	11
12	13	14	15	16	17	18
19	20	21	22	23	24	25
26	27	28	29	30		

Em que dia da semana foi o feriado de 25 de Abril?

- (A) Quarta-feira.
- (B) Quinta-feira.
- (C) Sábado.

1.º ciclo/1.º ano

1.º ciclo/1.º ano

1.º ciclo

/1.º ano