

#ESTUDOEMCASA

BLOCO N.º 14		Matemática x
ANO(S)	2.º	
APRENDIZAGENS ESSENCIAIS	<ul style="list-style-type: none"> <li>Reconhecer e relacionar entre si intervalos de tempo (dia, semana, mês e ano).</li> </ul>	

Título/Tema do Bloco



Tarefas/ Atividades/ Desafios

1. Calendário

Considera o seguinte calendário do mês de janeiro:

1 ciclo/2.º ano

2.ª feira	3.ª feira	4.ª feira	5.ª feira	6.ª feira	Sábado	Domingo
	1	2	3	4	5	6
7	8	9		11	12	13
14	15	16		18	19	
	22	23	24	25	26	27
28	29	20	31			▶

1.1. Quais são os números dos dias que faltam no calendário?

1.2. Quais são os outros meses do ano que têm 31 dias?

1.3. O Rui e a irmã têm a tarefa diária de pôr a mesa para o jantar. Se o Rui pôs a mesa nos dias pares, em que dias fez essa tarefa?

1.4. Na segunda sexta-feira do mês, o pai cozinha o prato favorito do Rui para o jantar. Em que dia do mês de janeiro é que o Rui jantou o seu prato favorito?

1.5. O dia de aniversário do José é um número par, entre 10 e 20. A soma dos seus algarismos é 9. Qual é o dia de aniversário do José?

1.6. O Rui marcou no calendário a data de aniversário de dois amigos, a Mariana e o Pedro.

2.ª feira	3.ª feira	4.ª feira	5.ª feira	6.ª feira	Sábado	Domingo
	1	2	3	4	5	6
7	8	9	10	11	12	13
14	15	16	17	18	19	20
21	22	23	24	25	26	27
28	29					

Em que mês fazem anos a Mariana e o Pedro?

## 2. Calendário

Considera o seguinte calendário.

1 ciclo/2.º ano

2.ª feira	3.ª feira	4.ª feira	5.ª feira	6.ª feira	Sábado	Domingo
	1	2	3	4	5	6
7	8	9	10	11	12	13
14	15	16	17	18	19	20
21	22	23	24	25	26	27
28	29	30	31			

Considera um número de uma coluna.

2.1. Considera, por exemplo, o número **3**, adiciona-lhe sete. Que número obtiveste?

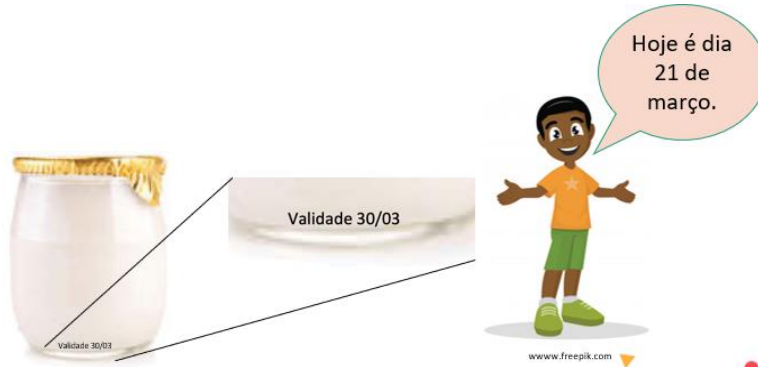
2.2. Considera agora, por exemplo, o número **10**, adiciona-lhe sete. Que número obtiveste?

2.3. O que podes concluir sobre o número de dias de uma semana?

3. Prazos de validade

3.1. O Júlio verificou o prazo de validade de um iogurte.

1 ciclo/2.º ano



Quantos dias faltam para acabar a validade do iogurte?

3.2. O Júlio verificou o prazo de validade do fiambre.




A validade do fiambre acaba antes ou depois da validade do iogurte?

3.3. O Júlio verificou o prazo de validade de um pacote de bolachas.



Em que mês acaba a validade do pacote de bolachas?

4. Quiz



4.1. Considera a seguinte calendário do quinto mês do ano.

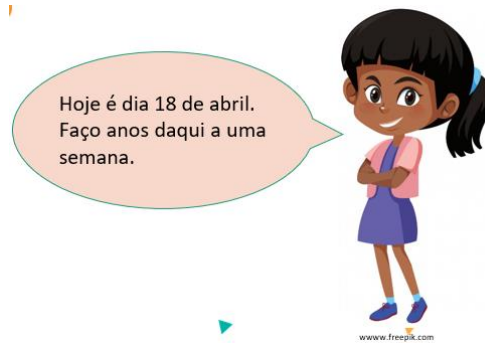
1 ciclo/2.º ano

2.ª feira	3.ª feira	4.ª feira	5.ª feira	6.ª feira	Sábado	Domingo
	1	2	3	4	5	6
7	8	9	10	11	12	13
14	15	16	17	18	19	20
21	22	23	24	25	26	27
28	29	30	31			

A que mês do ano corresponde o calendário?

- (A) Janeiro.
- (B) Abril.
- (C) Maio.

4.2. Considera a fala da Sara:



Em que dia do mês de abril a Sara faz anos?

- (A) Dia 25 de abril.
- (B) Dia 26 de abril.
- (C) Dia 27 de abril.

4.3. Considera a fala da Sara:



Qual é o mês de aniversário do pai da Sara?

- (A) Setembro.
- (B) Novembro.
- (C) Dezembro.

4.4. Considera a seguinte adivinha.

Eu sou um bom mês,  
cumpro sempre o horário,  
sou eu que chego primeiro à folha do calendário.

A que mês se refere a adivinha?

- (A) Dezembro.
- (B) Janeiro.
- (C) Fevereiro.

In, [www.slideshare.net/gentedepalmoemeio/os-meses-do-ano](http://www.slideshare.net/gentedepalmoemeio/os-meses-do-ano)

4.5. Considera a seguinte adivinha.

Sou um mês muito frio,  
de manhã custa a acordar,  
mas temos as castanhas à espera para degustar.

A que mês se refere a adivinha?

- (A) Novembro.
- (B) Janeiro.
- (C) Fevereiro.

In, [www.slideshare.net/gentedepalmoemeio/os-meses-do-ano](http://www.slideshare.net/gentedepalmoemeio/os-meses-do-ano)

4.6. Considera a seguinte adivinha.

Sou um mês muito florido,  
Trago as andorinhas e para elas sou querido.  
Quem sou eu?

A que mês se refere a adivinha?

- (A) Novembro.
- (B) Janeiro.
- (C) Março.

In, [www.slideshare.net/gentedepalmoemeio/os-meses-do-ano](http://www.slideshare.net/gentedepalmoemeio/os-meses-do-ano)