

#ESTUDOEMCASA

BLOCO N.º 23		Matemática x
ANO(S)	3.º e 4.º	
APRENDIZAGENS ESSENCIAIS	<ul style="list-style-type: none"> • Reconhecer relações numéricas e propriedades das operações e utilizá-las em situações de cálculo. • Medir comprimentos em contextos variados. • Reconhecer regularidades em sequências de figuras. 	


Título/Tema do Bloco

Perímetro do retângulo. Relações e regularidades.

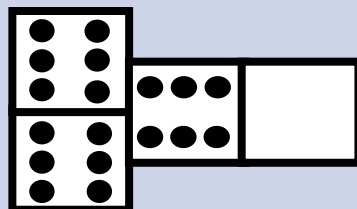
Tarefas/ Atividades/ Desafios

1. Quiz

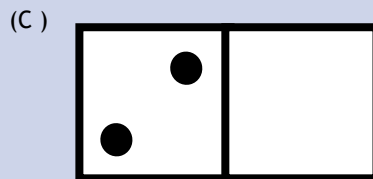


1 ciclo/
3.º 4.º ano



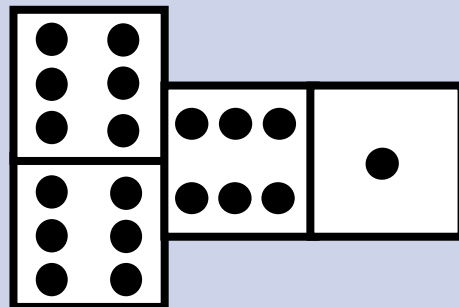
1.1 Considera a figura que representa um momento de uma jogada de dominó:



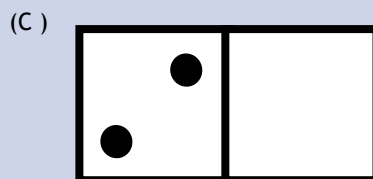
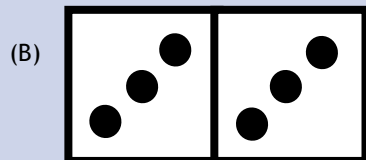

Qual é a peça que pode ser usada pelo jogador seguinte?



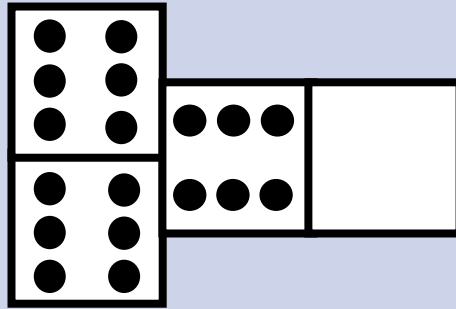
1.2. Considera a figura que representa um momento de uma jogada de dominó



Qual é a peça que pode ser usada pelo jogador seguinte?



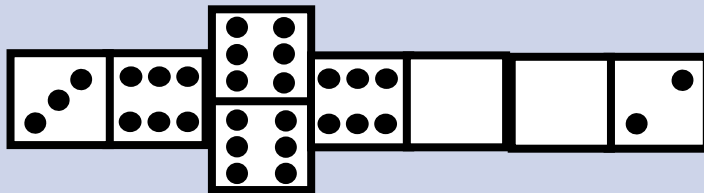
1.3. Considera a figura que representa um momento de uma jogada de dominó:



Qual é a expressão que representa o número de pintas das peças representadas?

- (A) 2×6
- (B) 3×6
- (C) 4×6

1.4 Considera a figura que representa um momento de uma jogada de dominó



Qual é a peça que pode ser usada pelo jogador seguinte?

