





- 11** Como deve comportar-se o ciclista?
- Pode ultrapassar, mas deve ter cuidado, porque pode haver peões a atravessar a rua pela frente do autocarro.
  - Deve parar imediatamente, e deixar partir o autocarro e só depois avançar.
  - Deve tocar a campainha, mantendo a velocidade, e continuar a marcha.



- 12** O ciclista A deve:
- Passar antes dos outros dois veículos.
  - Passar depois dos outros dois veículos.
  - Passar depois do automóvel e antes do ciclista B.



- 13** O comportamento do ciclista é correcto?
- Sim, porque os ciclistas podem fazer-se rebocar nas subidas.
  - Não, porque os ciclistas não podem fazer-se rebocar.
  - Não, porque os ciclistas só podem fazer-se rebocar por veículos de duas rodas.



- 14** Como deve comportar-se o ciclista?
- Pode avançar, porque o peão ainda não chegou ao eixo da via.
  - Pode avançar, porque não existe passadeira para peões no local.
  - Deve parar e deixar passar o peão.



## SEGURANÇA RODOVIÁRIA

### Teste de avaliação de conhecimentos

A PREENCHER PELO PARTICIPANTE (EM MAIÚSCULAS)

Nome: \_\_\_\_\_

Data de nascimento: \_\_\_\_\_

Ano: \_\_\_\_\_ Turma: \_\_\_\_\_ n.º Aluno: \_\_\_\_\_



Assinala com uma cruz (x) a resposta que consideras correcta. Cada pergunta tem apenas uma resposta certa. Essa resposta correcta vale 10 (dez) pontos. A correcção é feita com base numa chave fornecida pela Prevenção Rodoviária Portuguesa.



- 1** Quando o sinal vermelho com seta passar a verde, o ciclista A deve:
- Seguir em frente.
  - Seguir em frente ou para a direita.
  - Seguir em frente ou para a esquerda.

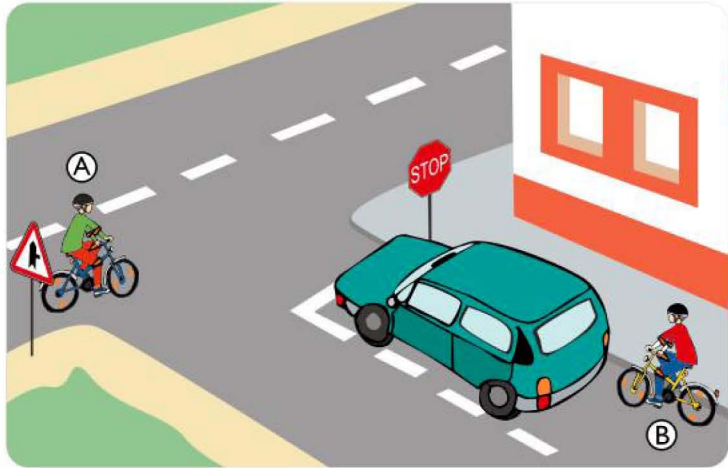


- 2** O ciclista circula com a luz acesa. Comporta-se correctamente?
- Não, porque os ciclistas não devem circular com as luzes acesas durante o dia.
  - Não, porque os ciclistas não podem circular em túneis.
  - Sim, porque vai entrar num túnel.






- 3** O ciclista A deve:
- Passar antes dos outros ciclistas.
  - Passar depois dos outros ciclistas.
  - Passar depois da ciclista C e antes do ciclista B.



- 4** O ciclista A deve:
- Passar primeiro que os outros veículos.
  - Passar depois dos outros veículos.
  - Deixar passar primeiro o automóvel e avançar antes do ciclista B.



- 5** O ciclista comporta-se correctamente?
- Não, porque existe mais que uma fila de trânsito no sentido em que segue.
  - Sim, porque a via mais próxima do passeio destina-se apenas a transportes públicos.
  - Não, porque não existe trânsito em nenhuma das vias.



- 6** O comportamento do ciclista A é correcto?
- Sim, porque não há peões a atravessar na passadeira.
  - Não, porque não se pode ultrapassar junto de passadeiras.
  - Não, porque vem um veículo em sentido contrário.



- 7** O ciclista comporta-se correctamente?
- Sim, porque está a sinalizar a manobra.
  - Não, porque na via em que se encontra não pode virar à esquerda.
  - Sim, porque se encostou ao eixo da via.



- 8** Como deve comportar-se o ciclista ?
- Avançar depois da ciclista e antes do automóvel.
  - Avançar depois da ciclista e do automóvel.
  - Avançar antes da ciclista e do automóvel.



- 9** O ciclista vai entrar numa via onde:
- Não pode ultrapassar.
  - O trânsito passa a ser feito nos dois sentidos.
  - Há apenas uma via de trânsito em cada sentido.



- 10** O ciclista só pode seguir:
- Em frente ou para a direita.
  - Para a esquerda.
  - Para a direita.